

43-МДК -8-38-01

**Муниципальный этап  
Всероссийской олимпиады школьников  
по Искусству (Мировой художественной культуре)  
2023/2024 учебного года**

**Комплект заданий для учащихся 7-8 классов**

**Задания выполняются в течение 180 минут (3 часа)**







Номер задания	Баллы	Максимальный балл
1		9
2		4
3		4
4		3
5		2,5
6		2
7		13
8		
Общий балл		37,5

43 - Москва - 8 - 38 - 01.

**Задание 1 (15 баллов)**

Рассмотрите представленные в Таблице 1 произведения искусства и выполните задания.

Таблица 1

	
<p style="text-align: center;">1</p>	<p style="text-align: center;">2</p>
	
<p style="text-align: center;">3</p>	<p style="text-align: center;">4</p>
	
<p style="text-align: center;">5</p>	<p style="text-align: center;">6</p>





1.1. Укажите названия древних цивилизаций, к которым относится каждый из представленных памятников. Внесите ответы в таблицу ниже.

№	Название древней цивилизации (древней культуры)	Вид искусства
1)		Архитектура
2)	Китайская империя	Архитектура
3)		Скульптура
4)	Египетские рисунки	Фреска
5)		Багетьер
6)		Фреска

43 - МОСК - 8 - 38 - 01

- 1.2. Укажите названия видов искусства, к которым относится каждый из представленных памятников. Внесите ответы в таблицу в пункте 1.1.
- 1.3. Выберите среди представленных в Таблице 2 изображений одно, которое НЕ относится ни к одной из цивилизаций, памятники которой представлены в Таблице 1.

Таблица 2

1)		3)	
2)		4)	

1.4. 2  
Укажите название страны, в которой был выполнен выбранный вами лишний памятник.

Япония  
1.5. Назовите вид искусства, к которому относится выбранный вами лишний памятник.



Ландшафт живопись


98

**Задание 2 (16 баллов)**

Рассмотрите представленные в Таблице 1 изображения и выполните задания.

Таблица 1


	
1	2



3



4



5

2.1. Укажите названия жанров живописи, к которым относятся представленные произведения.

№	Жанр	Художник
1)	Историческая живопись	Ренуар
2)	Портрет	
3)	натюрморт	
4)	комедия	
5)	пейзаж	

45

Укажите имена и фамилии художников-авторов представленных произведений. Внесите ответы в таблицу

2.2 Некоторые из художников оставили заметный след в истории развития разных жанров живописи, а некоторые мастера преимущественно работали в своем излюбленном жанре. Так можно сказать о мастерах, создавших полотна 1, 4 и 5. Назовите в отношении каждого из этих трех художников еще две их работы того же жанра, что и приведены в задании.


№	Художник	Названия произведений
1)		
4)		
5)		

43-МХК-8-38-01

**Задание 3 (10 баллов)**

В Таблице 1 представлены кадры из известных мультфильмов, чьи сюжеты либо опираются на известные истории и сказки Востока, либо же содержат в себе множество восточных мотивов.

Таблица 1



43 - МОСК - 8 - 38 - 01

Вам необходимо дать ответы на вопросы о данных произведениях, рассмотрев изображения и заполнив таблицу:

№ вопроса	Вопрос:	Ответ (номер изображения)
1	Какой из представленных кадров взят из мультфильма, произведенного не на территории СССР?	5, 2
2	В каком мультфильме антагониста (противника главного героя) озвучил известный советский актер Анатолий Папанов (который также озвучивал Волка в мультфильме «Ну погоди!»)?	5, 4
3	Какие два мультфильма сняты на основе классических восточных сказок, в отличие от прочих, снятых на основе произведений конкретных авторов?	1, 2
4	Какие два мультфильма были созданы на основе индийских мотивов и сюжетов?	3, 5 <del>2, 5</del>
5	К какому из мультфильмов приложил руку Роберт Саакянц, автор небезызвестного мультфильма «В синем море, в белой пене»?	4


№ вопроса	Вопрос:	Ответ (имя и фамилия)
6	Напишите имя и фамилию автора сборника рассказов, на основе которых был создан мультфильм из вопроса №2.	

46

#### Задание 4 (6 баллов)

Рассмотрите представленные в Таблице 1 два памятника архитектуры и сравните их.

Таблица 1



4.1. Что объединяет оба представленных памятника?

Это театры

4.2. Укажите местонахождение представленных памятников архитектуры.

1. Рим


2. Санкт-Петербург

4.3. Укажите название эпохи/художественного направления, в котором выполнены представленные памятники.

1.

2.

4.4 Среди представленных в Таблице 2 памятников, выберите номера тех зданий, которые относятся к той же архитектурной типологии, что и анализируемые вами произведения



1, 2, 6

### Задание 5 (16 баллов)

38





Литература и живопись находятся в тесной связи: труды писателей часто отображаются на полотнах, а страницы книг украшают красочные иллюстрации художников. В Таблице 1 представлены примеры таких известных изображений, а ниже – цитаты из связанных с ними произведений.

Ваша задача – соединить цитату и иллюстрации (к каждой цитате – по два изображения), а также заполнить таблицу в пункте 6.1., указав имена и фамилии авторов книг и их названия.

1.	2.
<p>— Поверьте, ваша милость, — это вовсе не великаны, а ветряные мельницы. А то, что вы называете руками, вовсе не руки, а крылья, которые вертятся от ветра и приводят в движение жернова.</p> <p>— Сразу видно, что ты еще не опытен в рыцарских приключениях. Это великаны!</p>	<p>Земную жизнь пройдя до половины, Я очутился в сумрачном лесу, Утратив правый путь во тьме долины. Каков он был, о, как произнесу, Тот дикий лес, дремучий и грозный, Чей давний ужас в памяти несусь!</p>

<p>3.          Над широким берегом Дуная,          Над великой Галицкой землёй          Плачет, из Путивля долетая,          Голос Ярославны молодой:          «Обернусь я, бедная, кукушкой,          По Дунаю-речке полечу          И рукав с бобровою опушкой          Наклонясь, в Каяле омочу.</p>	<p>4.          — Я не знала, что Чеширские Коты всегда улыбаются... В самом — деле, — я не, знала, что, вообще коты могут улыбаться.          — Они все могут улыбаться, — сказала Герцогиня, — а большинство из них это и делает!</p>
<p>5. В эту минуту мимо меня пролетало встречное ядро, пущенное турками в наш лагерь. Недолго думая, я пересел на него и как ни в чём не бывало помчался обратно.          Конечно, во время полёта я тщательно пересчитал все турецкие пушки и привёз своему командиру самые точные сведения об артиллерии врага.</p>	


Таблица 1

	
<p style="text-align: center;">А</p>	<p style="text-align: center;">Б</p>
	
<p style="text-align: center;">В</p>	<p style="text-align: center;">Г</p>






Д



Е



Ж



З



И



К

43 - МДК - 8 - 38 - 01.

Номер цитаты	Буквы изображений	Название литературного произведения	Автор литературного произведения
1	Б, Д		
2	В, Е		
3	З, Ц, А, И, К		_____
4	Р, З, С		
5	Г, А		

2,58

5.2 В 2023 году прошло 140 лет со дня смерти известного французского живописца и графика, создавшего иллюстрации многих книг, считающихся литературным канон. Среди иллюстраций выше также есть его работы. Назовите его имя и фамилию.






**Задание 6 (15 баллов)**

Рассмотрите цитаты ниже и изображения в Таблице 1, связанные с темой танца.

<p>1. _____ раздалась. Бывало,          Когда гремел _____ гром,          В огромной зале всё дрожало,          Паркет трещал под каблуком,          Тряслися, дребезжали рамы;          Теперь не то: и мы, как дамы,          Скользим по лаковым доскам.          Но в городах, по деревням          Еще _____ сохранила          Первоначальные красы:          Припрыжки, каблуки, усы          Всё те же: их не изменила          Лихая мода, наш тиран,          Недуг новейших россиян.  <i>А. С. Пушкин</i></p>	<p>2. Однообразный и безумный,          Как вихорь жизни молодой,          Кружится _____ вихорь шумный;          Чета мелькает за четой.</p>
<p>3. Отложи на время дело          И беги сюда, дружок!          Приглашает _____          На скалистый бережок.          Мандолина и гитара,          Струны весело звенят,          И, конечно, бубен старый          Отчеканивает лад.</p>	<p>4. Мелодия ложится как на ноты,          Не представляю — нот же семь всего?!          Мотив я слышу «Арагонской _____»          И восторгаюсь — так люблю его!          Закрыв глаза, себя воображаю          Тореадором, стройным, молодым,          Быка я на арене побеждаю          Под солнцем ярким, небом голубым!</p>

<p>5.  Я вижу снова в блеске зал,  Улыбки дам, как яркий свет.  Оркестр пленительно играл  Красивый модный _____.  Я, словно роза, так свежа,  На вас камзол огнём горит,  Шептали вы мне, чуть дыша:  «Танцуем – раз, два, три»</p>	

Таблица 1

	
А	Б
	
В	Г
	
Д	

43 - МОСК - 8 - 38 - 01.

6.1 Вставьте пропущенные названия танцев в цитаты.

6.2 Укажите страны происхождения танцев на изображениях.

Буква изображения	Страна происхождения
А	
Б	
В	
Г	
Д	


6.3 Соотнесите цитаты с изображениями, на которых данные танцы изображены.

1	2	3	4	5
	Г	А		

Задание 7 (22 балла)

Рассмотрите изображение в Таблице 1 и ответьте на вопросы.

Таблица 1



7.1 На картине изображены члены творческого союза композиторов. Как он назывался?

Могучая кучка

7.2 Напишите полные имена музыкантов, на которых указывают стрелки под номерами 1, 2, 3



1 Римский - Корсаков Мусорский

2 Мусорский Римский - Корсаков.

3 Прокофьевич А.

7.3 В Таблице 2 даны репродукции эскизов к постановкам произведений композиторов, членов кружка, обозначенных стрелками 1, 2 и 3.

Таблица 2

		
1	2	3
		
4	5	6
		
7	8	9

Соотнесите номера репродукций эскизов с авторами музыкальных произведений (авторы 1, 2 и 3 в пункте 8.2.), ответ впишите в таблицу ниже. Напишите названия произведений, к которым сделаны эти эскизы. Ответ также внесите в таблицу:

43 - МСК - 8-38 - 01

Авторы	1	2	3
Иллюстрации	<del>1, 2, 5, 4</del> <u>1, 5, 7</u>	<del>2, 6, 9</del>	<u>3, 4, 8</u>
Произведения			

138

**Максимальный балл за все задания – 100**

Итого: 37,5  
Проверила: Бурашова