

ВСЕРОССИЙСКАЯ ОЛИМПИАДА ШКОЛЬНИКОВ ИСТОРИЯ.

2024–2025 уч. г.

ШКОЛЬНЫЙ ЭТАП. 8 КЛАСС

Время выполнения 90 минут

ИТОГ ВЫПОЛНЕНИЯ ЗАДАНИЙ

Максимальный балл – 98 балла; фактический - 84 балл.

Подпись членов жюри Кабачков А. М.

1. Перед вами перечень событий, произошедших в правление трёх российских правителей. Выберите имена этих правителей из предложенного списка и занесите данную информацию в таблицу. Под именами правителей поставьте буквенные обозначения событий, произошедших в их правление.

Перечень правителей

- 1. Иван Калита
- 2. Василий III
- 3. Игорь Святославич
- 4. Дмитрий Донской
- 5. Иван III
- 6. Василий II

12

Правитель	1	2	5
Событие	АГИ +	ДЗЖ +	БВЕ +

Перечень событий

- А. Тверское восстание
- Б. Принятие в качестве герба Российского государства двуглавого орла
- В. Строительство Благовещенского собора Кремля
- Г. Строительство деревянного Кремля в Москве
- Д. Пострижение в монахини Соломонии Сабуровой
- Е. Разгром ереси жидовствующих
- Ж. Поход Мехмет Гирея на Москву
- З. Присоединение Стародубского княжества к Москве
- И. Перенос резиденции митрополита в Москву

Оценочные баллы: максимальный – 12 баллов; фактический – _____

2. Выберите термины, которые соответствуют архитектурным элементам, представленным на приведённом изображении.



1. Портал
2. Портик
3. Волюта
4. Апсиды
5. Закомары
6. Барабан

8
 Ответ: 1, 4, 5, 6

Оценочные баллы: максимальный – 4 балла; фактический – _____

3. Выберите из приведённого списка события всемирной истории, которые произошли в той же половине века, что и описанное в тексте событие. (Максимум за задание – 6 баллов)

6
 Сыновья же русские вступили в обширные поля коломенские, но и тут не вместиться огромному войску, и невозможно было никому очами окинуть рати великого князя. Князь же великий, въехав на возвышенное место с братом своим, с князем Владимиром Андреевичем, видя великое множество людей снаряжённых, возрадовался и назначил каждому полку воеводу. Себе же князь великий взял под командование белозерских князей, и в полк правой руки назначил брата своего, князя Владимира, и дал ему под командование ярославских князей, а в полк левой руки назначил князя Глеба Брянского.

1. Битва на Косовом поле
2. Жакерия во Франции
3. Разгром Тамерланом Золотой Орды
4. Грюнвальдская битва
5. Разгром ордена тамплиеров
6. Принятие Великой хартии вольностей

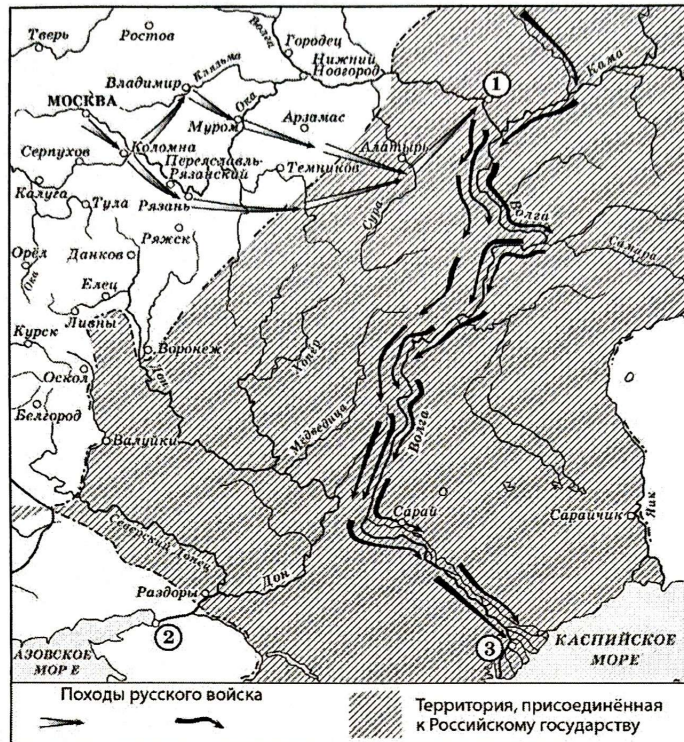
Ответ: 1, 2, 3

Оценочные баллы: максимальный – 6 баллов; фактический – _____

4. Внимательно рассмотрите схему и выполните представленные задания.

Выберите все верные утверждения.

1. Цифрой на схеме обозначен город, который на протяжении нескольких лет удерживался казаками в период его нахождения под контролем Османской империи.
2. На схеме обозначен торговый путь «из варяг в греки».



3. В период событий, обозначенных на схеме, была переименована река Яик.
4. На схеме обозначен город, в котором состоялся сбор русских войск накануне Куликовской битвы.
5. Цифрой «1» на схеме обозначен Симбирск.
6. Одной из стрелок на схеме обозначен поход Ерофея Хабарова.
7. На схеме обозначена восточная граница Российского государства до воцарения Ивана IV.
8. Цифрой «3» на схеме обозначена Астрахань.
9. В результате событий, обозначенных на схеме, Каспийское море стало внутренним морем России.
10. На схеме обозначено не менее двух городов, в которых родились легендарные русские богатыри.


Ответ: 1, 4, 7, 8, 9, 10


Оценочные баллы: максимальный – 10 баллов; фактический – _____


5. Выберите из представленных картин те, на которых отражены события всемирной истории, произошедшие:


- A. на век раньше событий, отображённых на схеме;
- Б. в том же веке, что и события, отображённые на схеме;
- В. на век позже событий, отражённых на схеме.


Обратите внимание, что среди изображений есть лишние.


1 


2 


3 

4 

5 

6 

7 

8 

18

Ответ:

А		Б		В	
2	3	4	1	6	8

Оценочные баллы: максимальный – 18 баллов; фактический – _____

6. Прочитайте отрывки из исторических источников. Выберите те из них, которые имеют непосредственное отношение к походам, отображённым на схеме.

А. И внезапно те царевичи поспешили в проломы со своими варварскими полками, и в мгновение ока, в то время как казанцы ещё метались в страхе, сами себя не понимая и не обретя разум, беспрепятственно вошли в город сквозь полые места и спасли город от разрушения и пожара, потушив огонь.

Пехотинцы же приставляли к стенам бесчисленные лестницы и неудержимо лезли на город. Некоторые же, словно птицы или белки, повсюду зацеплялись, как когтями, железными баграми за стены, и влезали на город, и били казанцев.

Б. А Котян, князь половецкий, с иными князьями и с остатком половцев прибежали к тому месту, что называется вал половецкий, а другие половцы многие убежали в Русскую землю. Этот Котян был тесть Мстиславу Мстиславичу Галицкому. И пришёл он с князьями половецкими в Галич с поклоном к князю Мстиславу, к зятю, и ко всем князьям русским. И дары принёс многие – коней, и верблюдов, и буйволов, и невольниц; и одарил князей русских и сказал так: «Нашу землю татары отняли сегодня, а вашу завтра возьмут. Приходите, обороните нас. Если не поможете нам, то мы нынче иссечены будем, а вы завтра».

В. А теперь поведаю вам, дети мои, о труде своём, как трудился я в разъездах и на охотах с тринадцати лет. Сначала я к Ростову пошёл сквозь землю вятичей; послал меня отец, а сам он пошёл к Курску; и снова вторично ходил я к Смоленску, со Ставком Гордятичем, который затем пошёл к Берестью с Изяславом, а меня послал к Смоленску; а из Смоленска пошёл во Владимир.






Г. Те же, придя к Казани, по Волге до Камы и на Каме на много вёрст перекрыли все пути казанцам и с Божьей помощью город на Свяге поставили и в нём церковь пречистой Богородицы в честь славного её Рождества, а также церковь великого чудотворца Сергия. И когда увидели нечестивые такое притеснение, никогда раньше над ними не чинимое, то начали многие из них приезжать к воеводам и челом бить.


Д. Пришли к царю Борису из Литвы великие послы Лев Сапега с товарищами [просить] о мирном постановлении. Царь же Борис им воздал великую честь, и ездили на переговоры многое время, и едва условились о мирном договоре, и взяли перемирие на двадцать лет. После же заключения мира [послы] были у стола государева, и государь их пожаловал своим государевым великим жалованием и отпустил их к Жижиманту королю польскому

Ответ: _____

Оценочные баллы: максимальный – 6 баллов; фактический – _____

7. Рассмотрите представленные фотографии. Выберите те, на которых отражены события, связанные с Великой Отечественной войной. (Максимум за задание – 10 баллов)





10
 Ответ: 1, 2, 3, 7, 9

Оценочные баллы: максимальный – 10 баллов; фактический – _____

8. Заполните пропуски в таблице, выполнив следующее.

А. Сопоставьте с указанными в таблице веками схемы, на которых отражены события, произошедшие в каждом из этих веков.

Б. Соотнесите схемы с фрагментами исторических источников, в которых описаны события, отражённые на схемах.

В. Соотнесите со схемами имена участников событий, описанных во фрагментах.

Г. Соотнесите со схемами иллюстрации, на которых изображены события, связанные с приведёнными схемами.

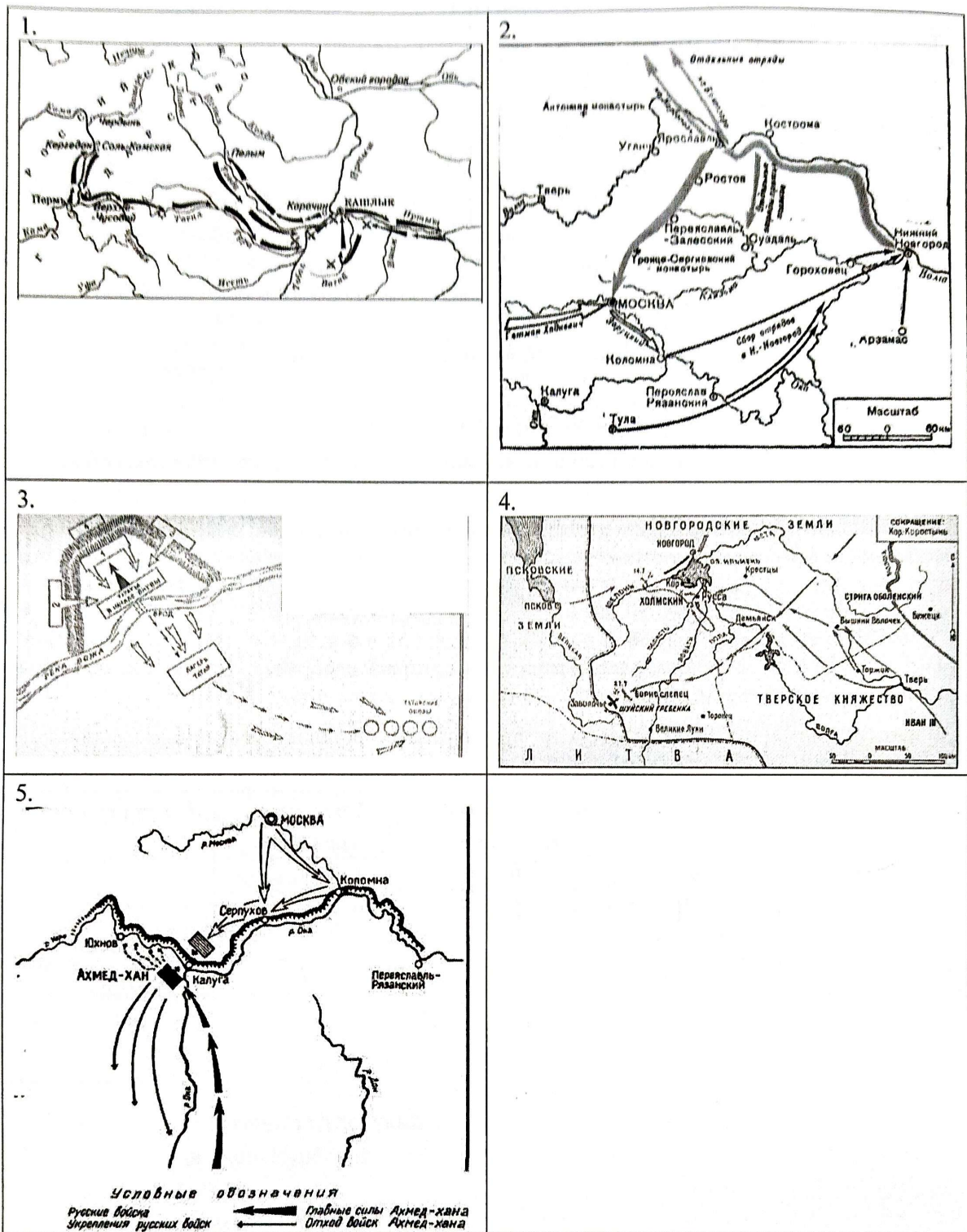
Обратите внимание на то, что среди предлагаемых вставок есть лишние элементы.

24

Век	Схема	Исторический источник	Участник событий	Иллюстрация
XIV	3	A	4	V
XV	4	Г	5	IV
XVI	I	B	3	I
XVII	2	M	4	II

6
6
6
6

Схемы.



Фрагменты источников.

А. По прошествии немногих дней враги переправились на эту сторону реки и, нахлестывая коней своих и закричав на своем языке, пошли рысью, и ударили на наших. А наши ринулись на них: с одной стороны, Тимофей окольниковый, а с другой стороны – князь Даниил Пронский, а князь великий ударил в лоб им. Ордынцы же сразу побросали копья свои и побежали за реку, а наши стали преследовать их, рубя и коля, и великое множество перебили их, а многие из них в реке утонули. И вот имена убитых князей их: Хазибей, Коверга, Карабулук, Костров, Бегичка.

Б. И изгнаша варягы за море, и не даша имъ дани, и почаша сами в себе володети. И не бе в нихъ правды, и вѣста родъ на род, и быша усобице в них, и воевати сами на ся почаша. И ркоша: «Поищемъ сами в себе князя, иже бы володелъ нами и рядилъ по ряду, по праву». Идоша за море к варягом, к руси. Сице бо звахуть ты варягы русь, яко се друзии зовутся сее, друзии же урмани, аныглыне, инеи и готе, тако и си. Ркоша руси чюдь, словене, кривичи и вся:

«Земля наша велика и обилна, а наряда въ ней нетъ. Да поидете княжить и володеть нами».

В. Казанские города от шатости укрепляли. Да у Андрея Строганова, во время мимошедшее, как стояли под Москвою бояре Наши и воеводы князь Дмитрий Пожарский и Прокопий Ляпунов, и по городам, взяты у него Андрея многия деньги ратнымъ людям на жалованье. Да прадед же ево Григорья, служа и радея предкам Нашим Государским, призвал с Волги атаманов и казаков – Ермака с товарищи в свои вотчины, и на помощь ему ратныхъ многихъ людей наймывал, и всему войску помощь чинил, и деньги, и платье, и боевое ружье, и порох, и свинец, и всякой запас к воинскому делу из заводов своих и пожитков давал, и дворовыхъ своихъ людей с ними посылал; и Сибирское государство они взяли и под Нашу высокую руку Сибирцев привели.

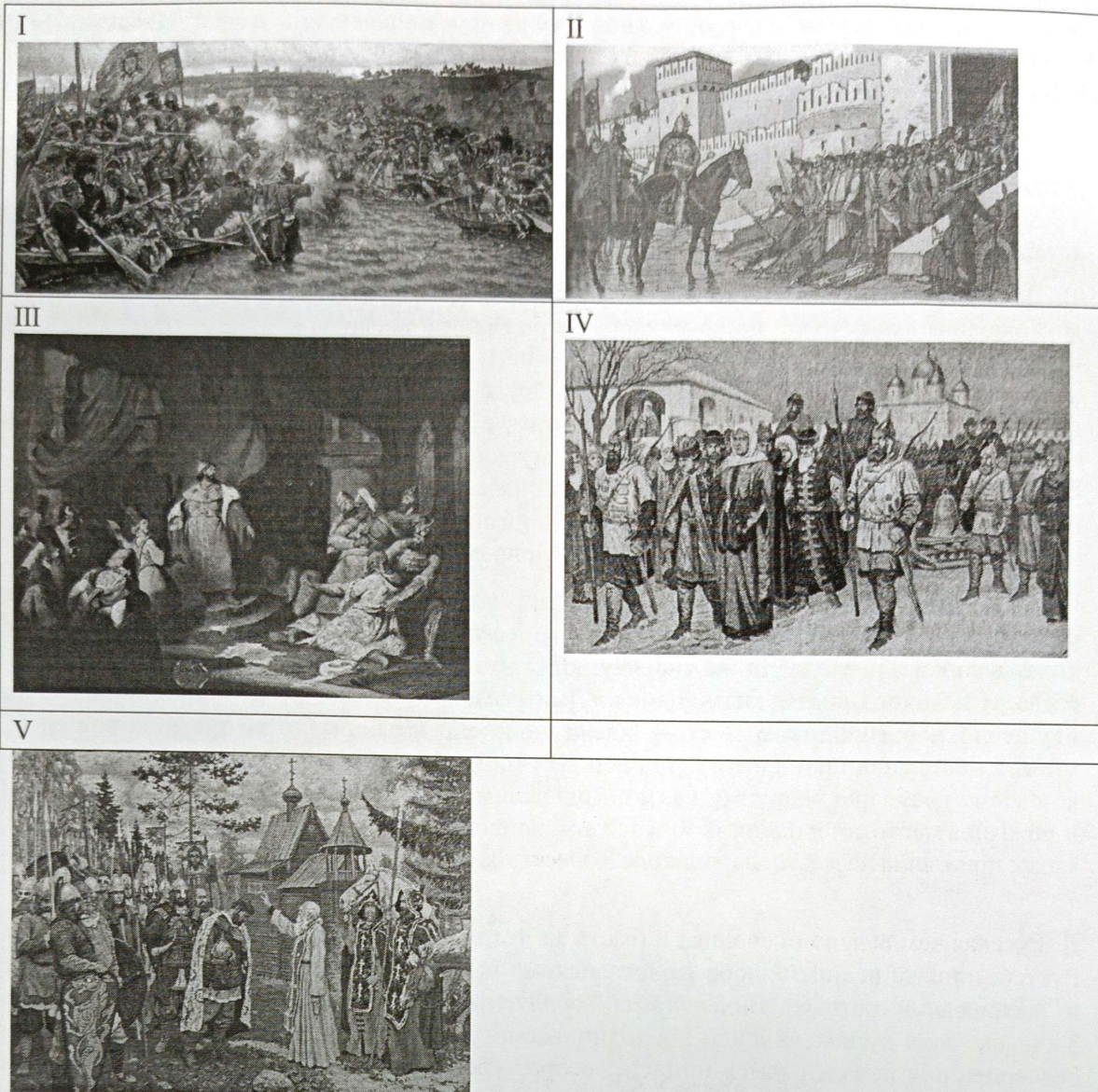
Г. Братья же великого князя все со многими людми, кийждо из своая отчины, поидоша розными дорогами к Новугороду, пленующе и жгуще и люди въ пленъ ведуиде; такоже и князя великого воеводы та же творяху, кийждо на кое место посланъ. Прежепосланны их воеводы великого князя, князь Данило Дмитриевич Холмьвский и Феодоръ Давыдович, идуще по новьгородцкимъ местом, идеже повелено им бяше, и распустиша воя своя на многия места жеци и пленити и в полон вести и казнити без милости за их неисправление ко своему государю великому князю. Дошедшим же воеводамъ темъ до Русы, поплениша и пожгоша место то; и пленивъ то и пожегъ, поидоша близ к Новугороду к реце к Шелоне. И якоже приидоша на место, нарицаемое Коростыня, а у озера Илмяня на брезе.

Д. Русская земля зело опечалися и бысть же тогда великое уныние и мятеж во всей земли Рустей, понеже велицей злобе Христианскому народу належаци прещения ради неверныхъ и насилования ратныхъ. Видев тогда насилуемы многи, и зело оскорбися, и поболе Зоровавельски душею за люди Господни, всемогущего Бога на помощь призывая и молву бесчисленныхъ печалей на ся прият...; собрав убо от народа многая сокровища сребра и дари люди ратныя оброки довольными, и сице собра полки многие и военачальники искусны во бранех, князя Дмитрия Михайловича Пожарскаго над всеми быти совосприподоби, сам же никогда отлучался, аки древний Гедеон всех сердца на сопротивныя укрепляя, и тако со многими вои под Москву прииде.

Участники событий.

1. Кузьма Минич Захарьев Сухорукий
2. Андрей Михайлович Курбский
3. Ермак Тимофеевич
4. Владимир Андреевич Серпуховской
5. Дмитрий Исаакович Борецкий
6. Иосиф Волоцкий

Иллюстрации.



Ответ:

Век	Схема	Исторический источник	Участник событий	Иллюстрация
XIV	а 3	А	4	✓
XV	3 4	Г	5	IV
XVI	1	В	3	1
XVII	2	Ж	1	II

Оценочные баллы: максимальный – 32 балла; фактический – _____